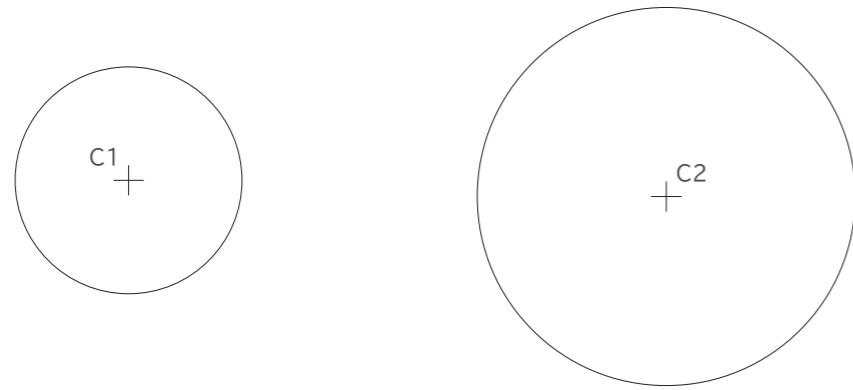


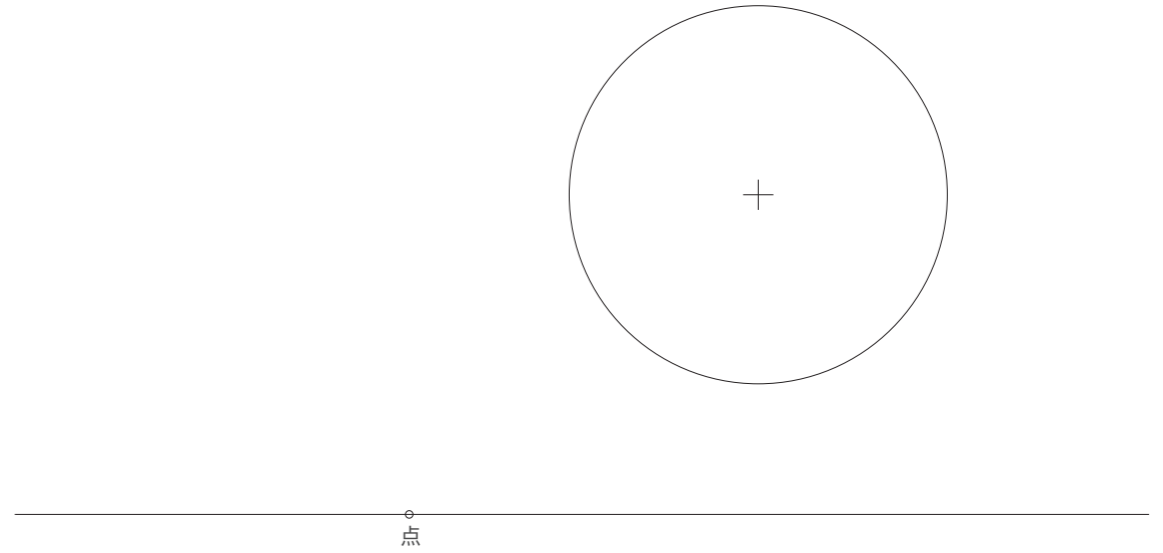
# 手書きによる図法・製図 課題④ 直線と円弧の接続(復習)

直線どうし、直線と円弧、円弧どうしをそれぞれ指定する半径Rの円弧で滑らかにつなぎなさい。

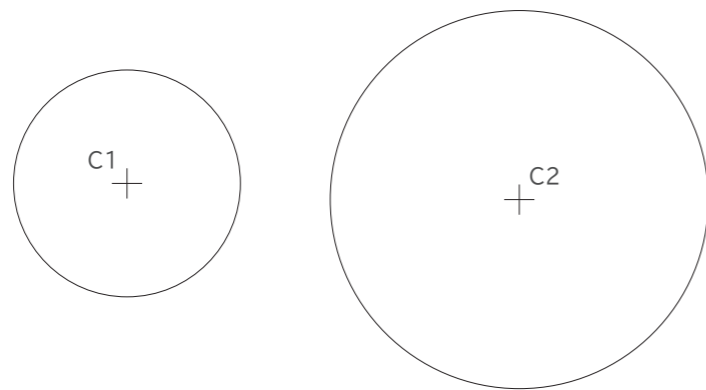
① 2円(C1,C2)に接する共通の接線を引く



② 直線上の点と外接する円を描く



③ 2円(C1,C2)に内接する低半径Rの円を描く



④ 直線上の点と円に内接する円を描く

